



I. ČÁST (Muzeum na demarkační linii v Rokycanech)

- 1) V jakém roce byla ukončena I. světová válka?

.....

- 2) Pojem DEMARKAČNÍ LINIE znamená (doplň svými slovy)

.....

.....

.....

- 3) Pozorně si prohlédněte dobovou fotografii na stěně a napište, kolik je zde bílých hvězd na tanku Sherman.

.....

- 4) Do následující tabulky dopiš rok výroby automobilu GMC. Je uveden na tabulce před vozidlem.

Automobil	rok výroby
GMC	
Halftrack	
Jeep Willys	
autobus Škoda 104	
Tatra 148	

- 5) Napiš alespoň 4 filmy nebo seriály kde jste viděli nějakou historickou techniku. Nemusí to být přímo období II. světové války. Napovím vám, třeba Kolja, Zdivočelá země ... a teď doplňujte vy.

.....

.....

.....

.....

6) Napište jméno pouště, ve které jezdil automobil Ford Canad

.....

7) Najděte vozidlo, které by mohlo sloužit jako civilní autobus a napište do tabulky u úkolu č. 4 rok jeho výroby a opište nápis, který je umístěn na střeše tohoto vozidla.

.....

8) Na které hranici se stavělo poválečné opevnění?

- a) v Západních a Jihozápadních Čechách
- b) na Jižním Slovensku
- c) ve Východních Čechách


9) Mohly se potkat na bojišti II. světové války tato vozidla? Správnou odpověď zakroužkuj. Použij údaje o datu výroby z tabulky u úkolu č. 4 a tabulek před technikou kde právě stojíš.

Studebaker	Halftruck	ano	ne
Jeep Willys	Tatra 148	ano	ne
autobus Škoda 104	Tatra 813	ano	ne

10) Zakroužkujte typ tanku, který se v naší expozici těžké techniky vyskytuje nejčastěji:

T-72 T-55 T-34

11) Porovnej tank, před kterým právě stojíš s tankem na obrázku. Zakroužkuj rozdíly.




- 12) Zkuste nyní spojit uniformu legionáře a zemi, kde byla jednotka utvořena. Můžete využít nápovědy na panelech v expozici, kde právě stojíte.

ITÁLIE

FRANCIE


RUSKO



- 13) Napiš datum vzniku samostatného Československého státu:
a vyberte správné jméno prvního prezidenta ČSR



VÁCLAV HAVEL

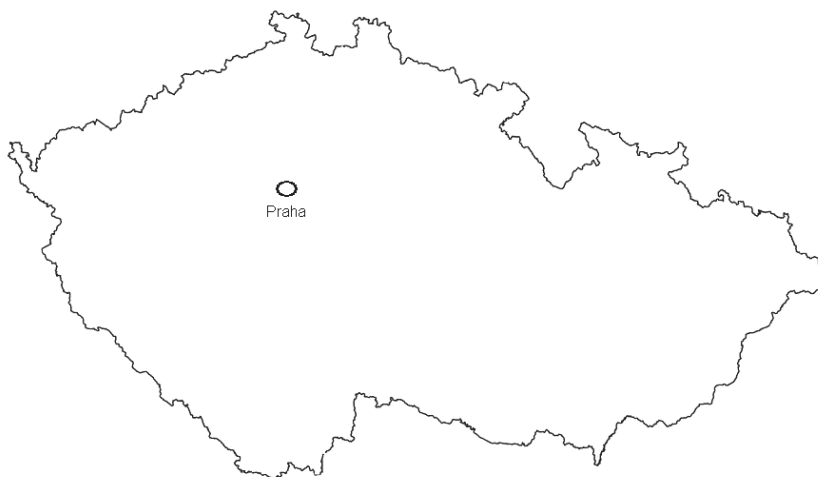


TOMÁŠ G. MASARYK



EDUARD BENEŠ

- 14) Porovnejte mapu, která je umístěna na zdi expozice, kde právě stojíte s mapou, kterou máte zakreslenou v tomto úkolu. Do obrázku dokreslete chybějící část mapy a vyberte, zda patřila Slovensku nebo Podkarpatské Rusi.





- 15) V expozici je umístěn zmenšený model přehlídky při vojenském cvičení. Spočítejte, kolik důstojníků stojí na přehlídkové tribuně.
- 16) První objekty pohraničního opevnění byly stavěny v roce (1934, 1942, 1948) a byly děleny na:
- a) lehké objekty, středně těžké objekty, těžké objekty
 - b) lehké objekty, těžké objekty, tvrže
 - c) pololehké objekty, středně těžké objekty, tvrže
- 17) SOS je označení pro:
- a) Stráž obrany státu
 - b) Strážní osamocený subjekt
 - c) Samostatnou obrannou skupinu
- 18) Najdi a opiš dobový nápis, napsaný nad vchodem do lehkého objektu
-
- 19) K obraně Československa bylo v rámci čtyř polních armád a zálohy hlavního velení připraveno 14 velitelství sborů, 34 pěších divizí, 4 rychlé divize a 3 skupiny. Zmobilizovaná československá armáda čítala mužů, kteří disponovali pušek, kulometů, protitankovými kanóny (dalších asi 270 protitankových kanónů bylo umístěno v objektech těžkého opevnění), 1 350 minomety, 2 270 děly všech ráží a tanky, 70 tančíky vz. 33 a 66 obrněnými automobily. Na hranicích bylo vybudováno zhruba těžkých a lehkých objektů stálého opevnění. Vojenské letectvo mělo 1 400 letadel, z toho zhruba 900 bojových, protiletadlovou obranu tvořilo 230 protiletadlových kulometů a 250 protiletadlových kanónů.
- 20) Kdy byla podepsána Mnichovská dohoda?
- a) 30. 6. 1938
 - b) 30. 9. 1938
 - c) 30. 8. 1939
 - d) 30. 9. 1939
- 21) Kdo Mnichovskou dohodu podepsal?
- a) Beneš, Daladier, Mussolini, Chamberlain, Hitler
 - b) Masaryk, Daladier, Mussolini, Chamberlain, Hitler
 - c) Daladier, Mussolini, Chamberlain, Hitler

22) S Mnichovskou dohodou je spjaté rčení:

- a) „Nikdy neustoupíme“.
- b) „O nás, bez nás“.
- c) „Do roka a do dne, zvu tě na boží soud.“

23) Mnichovská dohoda znamenala:

- a) začátek II. světové války
- b) postoupení pohraničních sudetoněmeckých oblastí ČSR
- c) zřízení Protektorátu Čechy a Morava

24) Doplňte chybějící text básně, která je napsána na stěně v expozici:

„Tvé hrozně drali,
 Toho říjnového rána.
 Co z tebe probůh
 Má země milovaná?
 Kdo , toho
 Kdo zrazen, !“

25) Zapamatovali jste, si v jakých zahraničních jednotkách bojovali příslušníci naší armády?

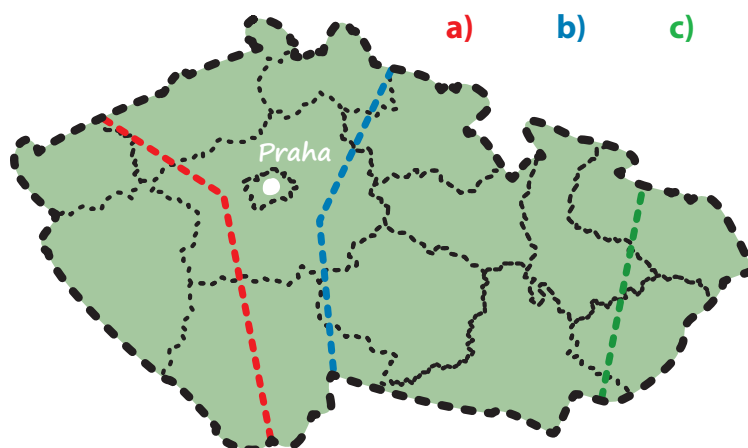
Doplňte je:

.....

26) Které armády se setkaly na tzv. linii dotyku – demarkační linii v roce 1945 v ČSR?

.....

27) Zakroužkuj správnou variantu průběhu demarkační linie v roce 1945:





28) Jak se jmenoval válečný zločinec, který byl zatčen dne 9. 5. 1945 na náměstí v Rokycanech?

- a) K. Henlein
- b) K. H. Frank
- c) J. Gebels

29) Uveď počty obětí občanů ČSR za II. světové války:

II. ČÁST (samostatná práce ve škole)

Vyhledej internetové stránky www.vojenskemuzeumrokycany.cz.

Najdi záložku „pro školy„ - pracovní listy II. část.

Vyplň zadané úkoly a odhal skryté tajemství.